



Av. Firmino Pires, 906 Centro/Sul  
Fone: (86) 2106-0606 • Teresina – PI  
Site: www.procampus.com.br  
E-mail: procampus@procampus.com.br

## COLÉGIO PRO CAMPUS CRIANÇA

ALUNO(A): \_\_\_\_\_ NÚMERO: \_\_\_\_\_

DATA: **15 | 07 | 2020**

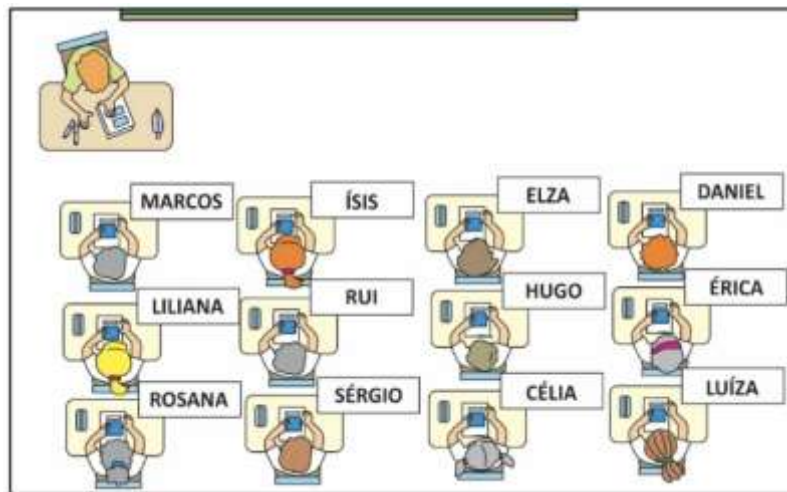
SÉRIE: **2° Ano** TURMA: \_\_\_\_\_ TURNO: \_\_\_\_\_ DEVOLUÇÃO: **28 | 07 | 2020**

PROFº(A): \_\_\_\_\_

### TAREFA AVALIATIVA DE GEOGRAFIA

1. De acordo com as atividades que serão realizadas no dia, a sala de aula pode ser organizada de diferentes formas. Assim, o aprendizado acontecerá da melhor maneira.

✚ A imagem a seguir mostra a sala de João Felipe. Observe a localização da mesa do professor e das carteiras dos alunos e faça o que se pede. (1,0)



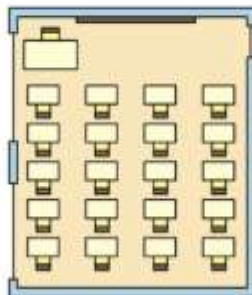
a) Marque com um **X** as afirmativas corretas.

- ( ) Luíza está atrás de Érica.
- ( ) À direita de Elza está Daniel.
- ( ) Rosana está ao lado de Liliana.
- ( ) O professor está mais perto de Célia do que de Marcos.

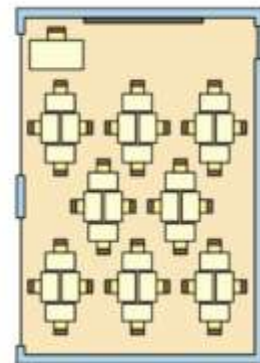
b) Circule, com lápis de cor, a imagem que representa a organização mais semelhante à sala de João Felipe.



CARTEIRAS EM SEMICÍRCULO



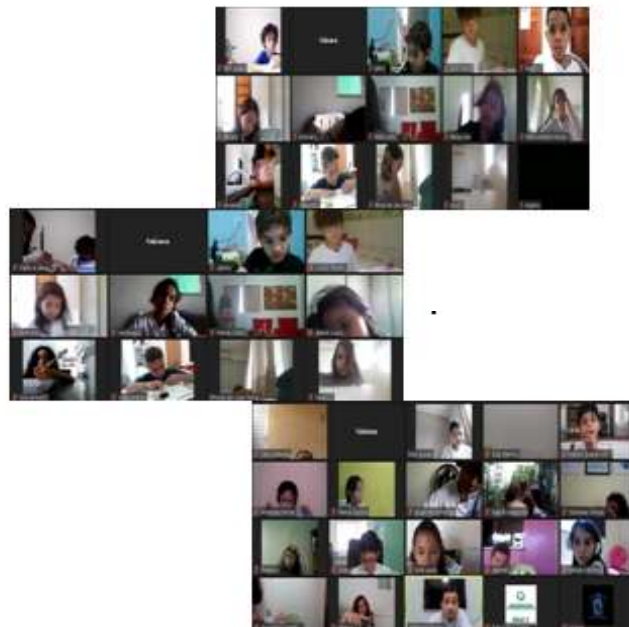

CARTEIRAS EM FILEIRAS



CARTEIRAS EM GRUPOS

2. A sala de aula, seja ela presencial ou virtual, é um local de convivência e aprendizado, na qual você encontra seus colegas e seus professores diariamente. [...] Na sala de aula, as regras de convivência são muito importantes, pois tornam esses espaços mais agradáveis para a aprendizagem.

✚ De acordo com o que estudamos, anote na plaquinha abaixo, três "regras importantes" para uma boa convivência entre as pessoas em sala aula e para um melhor aprendizado. (0,9)



3. Além da sala de aula, existem outros lugares importantes para a realização de diferentes atividades na escola.

✚ Leia as palavras do quadro, em seguida, escreva o nome de cada ambiente da escola. (0,8)

**SALA DE AULA – QUADRA ESPORTIVA – ESTACIONAMENTO – BIBLIOTECA**



✚ Escreva uma atividade que pode ser realizada em cada um dos ambientes da escola destacados abaixo. (0,6)

<b>SALA DE AULA</b>	
<b>QUADRA ESPORTIVA</b>	
<b>BIBLIOTECA</b>	

4. Os arredores de uma escola podem contar muito sobre a região em que ela está. Observando o que existe em torno do ambiente escolar, pode-se perceber, por exemplo, se a escola fica em um ambiente tranquilo ou movimentado.

🚩 Observe o mapa e responda.(0,9)



a) No espaço da Escola Cantinho Mágico, o que você observa? Liste três elementos (naturais ou humanizados) que você vê nos arredores dessa escola.

---



---

b) Observe que no lado esquerdo da imagem da Escola Cantinho Mágico, encontra-se um grande espaço verde.

🚩 Que local seria esse?

---



---

🚩 Ele serve para qual atividade?

---



---

5. Nas vias de circulação, transitam diversos meios de transportes, que podem ser **terrestres, aquáticos ou aéreos**. Cada um dos meios de transporte circula por uma via que pode ser **natural ou cultural**.

🚩 **Agora é sua vez!** Realize ao que é proposto em cada item abaixo. (1,0)

a) Escreva exemplos de dois meios de transporte que se relaciona a cada tipo a seguir.

🚩 **Transporte terrestre:** \_\_\_\_\_

🚩 **Transporte aquático:** \_\_\_\_\_

🚩 **Transporte aéreo:** \_\_\_\_\_

b) De acordo com as vias de circulação, complete as afirmativas.

✚ As vias \_\_\_\_\_ são formadas pela natureza e sem a intervenção humana, como o espaço aéreo, os mares e os rios.

✚ As vias \_\_\_\_\_ são construídas pelos seres humanos, como as ruas, avenidas, ferrovias e estradas.

6. Leia o poema - "Rap dos Transportes", de Mariane Bigio.

"Venham todos, venham todos  
Nós iremos passear  
De uma cidade a outra  
Pelo mundo viajar  
E que meio de transporte  
Nós vamos utilizar?"



Para distâncias mais curtas  
existe a bicicleta  
Não polui nossa cidade  
É esporte dos atletas  
Através da ciclovia  
faz a curva e segue a reta.

Se for a família inteira  
carro é boa opção  
Cabe o pai, a mãe, o filho  
a irmã e o irmão  
Tem buzina, quatro rodas  
cinto é obrigação!



Ônibus é coletivo  
é transporte de primeira  
Motorista e cobrador  
nas viagens rotineiras  
trabalhando com afinco  
levando a turma inteira! [...]

✚ Agora, responda ao que é solicitado. (1,2)

a) Qual o meio de transporte citado no poema que não provoca poluição do ambiente?

---



---

b) Qual o meio de transporte, que segundo o poema, é o mais apropriado para a família inteira?

---



---

c) Explique por que o cinto de segurança para quem anda de carro é uma obrigação.

---



---

d) **O ônibus é um transporte coletivo!** O que isso significa? Explique com base no que estudamos.

---



---

7. Hoje em dia temos muitos meios de comunicação e os utilizamos de formas diferentes. Observe as imagens de alguns meios de comunicação. (0,8)



(A)



(B)



(C)



(D)

Relacione as imagens dos meios de comunicação, às suas funções. Escreva a letra correspondente. (0,8)

( ) É possível trocar e-mails, jogar, fazer pesquisas on-line, etc.

( ) Trazem informações escritas e impressas diariamente.

( ) Podemos assistir desenhos, novelas, filmes, etc.

( ) Podemos escutar notícias e músicas.

8. Os meios de comunicação auxiliam as pessoas a transmitirem e receberem informações de maneira rápida e para um grande número de pessoas ao mesmo tempo. Leia a tirinha. (1,2)



a) Qual meio de comunicação está sendo utilizado pelo pai do Cascão?

Para que o pai do Cascão está usando esse meio de comunicação? Marque com um X a resposta certa.

( ) Fazer uma pesquisa.

( ) Contar uma história.

( ) Aprender uma receita.

b) Escreva os nomes de outros três meios de comunicação que você conhece.

c) Qual a importância dos meios de comunicação? Responda com base no que estudamos.

9. Os meios de comunicação estão em constante mudança e possibilitam diferentes formas de ter acesso a informações e à cultura. Observe a imagem a seguir, que representa a evolução do computador, e responda às questões. (0,8)



a) Qual a utilidade do computador para o ser humano?

---

---

b) Nessa sequência de imagens, o que aconteceu com o computador ao longo do tempo? Escreva suas observações.

---

---

---

10. Os meios de comunicação como computador, tablets, celulares, etc. facilitam a comunicação entre as pessoas, mas é necessário ter alguns cuidados ao usá-los. (0,8)

a) Escreva, nas plaquinhas, dois cuidados que devemos adotar ao utilizar os meios de comunicação.

---

---

---



---

---

---

b) Qual(ais) o(s) meio(s) de comunicação mais usado(s) por você e sua família?

---

---

---