



Rua Rui Barbosa, 724 Centro/Sul
Fone: (86) 2106-0606 • Teresina – PI
Site: www.procampus.com.br
E-mail: procampus@procampus.com.br

GRUPO EDUCACIONAL PRO CAMPUS JUNIOR

aluno(a) _____

9º Ano - Ensino Fundamental

TURMA _____

MANHÃ

Marciana

TRABALHO DE GEOGRAFIA - ENSINO REMOTO

01. Durante os séculos XV e XVI, exploradores europeus, mas principalmente portugueses e espanhóis, começaram a aventurar-se pelo “mar desconhecido”, isto é, pelo oceano Atlântico e também pelo Pacífico e Índico dando início à chamada Era das Navegações e Descobrimentos Marítimos.



Disponível em: <http://prof-ferdinando.blogspot.com/2012/06/grandes-navegacoes-mapas-e-rotas.html>. Acesso em 06 de março 2019.

A partir do exposto, responda:

a) Cite três objetivos dos europeus com as Grandes Navegações Marítimas.

b) Quais fatores contribuíram com o pioneirismo português e espanhol no processo de expansão marítima?

02. A África, Ásia e América foram os continentes que os europeus aportaram durante as Grandes Navegações (séculos XV e XVI). Algumas áreas descobertas, especialmente na América, foram colonizadas pelos europeus. Explique a Divisão Internacional do Trabalho (DIT) entre metrópole e colônia, estabelecida nesse contexto histórico.

03. Observando a imagem e com base nos seus estudos explique por que o chamado mundo ocidental não se refere às terras localizadas a oeste de Greenwich.



Disponível em: <https://noticias.uol.com.br/internacional/ultimas-noticias/2018/09/24/brasil-nao-e-pais-ocidental.htm>. Acesso em 06 março 2019.

04. **Imperialismo** é a prática através da qual, nações poderosas procuram ampliar e manter controle ou influência sobre povos ou nações mais pobres. Explique a relação entre a Conferência de Berlim (1884 – 1885) e o Imperialismo praticado pelos europeus no século XIX.







05. O neocolonialismo praticado pelos países europeus no continente africano trouxe marcas dolorosas para os países africanos nos dias atuais. Cite uma consequência econômica, uma social e uma cultural da colonização europeia na África.

06. Isolada do resto do mundo, a Oceania foi o último continente a ser conhecido pelos europeus, daí ser chamada também de Novíssimo Mundo. Da mesma forma que ocorreu na América, a Austrália e as ilhas da Oceania eram habitadas por diferentes povos antes da colonização europeia. Cite os nomes de dois importantes povos nativos da Oceania. Em seguida aponte como foram as relações entre os colonizadores e esses grupos sociais que habitavam as terras da Oceania.




07. O mapa a seguir registra parte do processo de substituição dos domínios vegetais do continente europeu pela agricultura sedentarizada ao longo dos últimos 10 mil anos. Identifique as duas principais formações vegetais da Europa e escreva suas características principais.

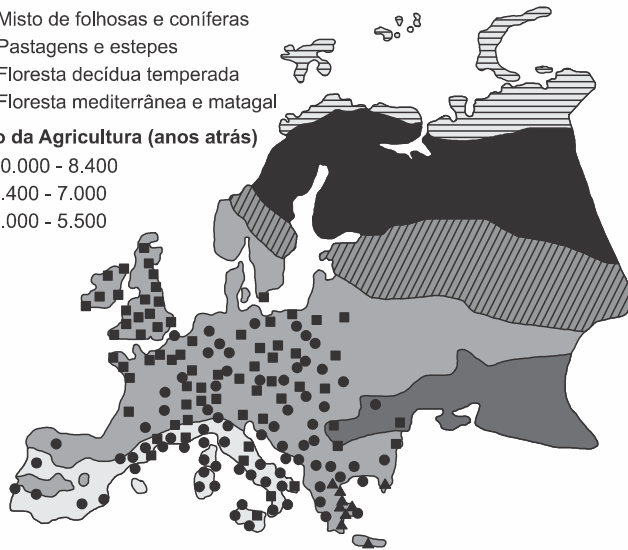
Legenda

Domínios vegetais do continente europeu

-  Tundra
-  Floresta de coníferas
-  Misto de folhosas e coníferas
-  Pastagens e estepes
-  Floresta decídua temperada
-  Floresta mediterrânea e matagal

Início da Agricultura (anos atrás)

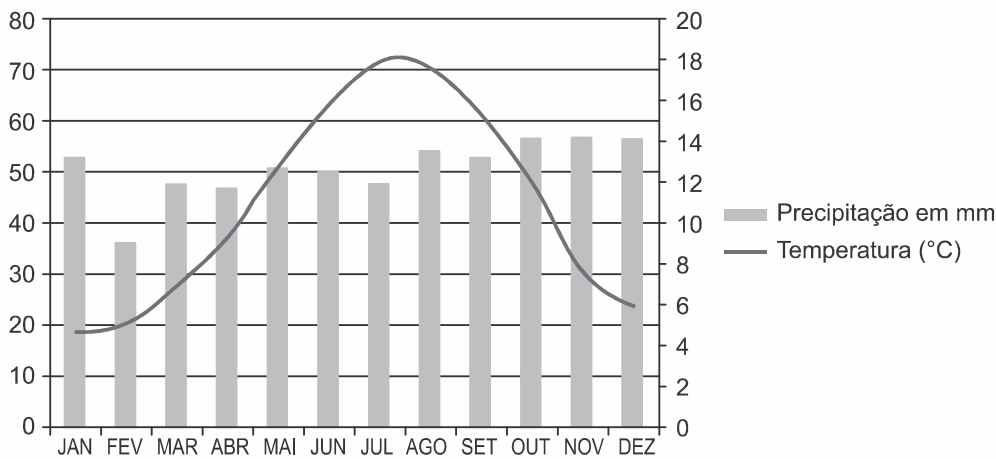
-  10.000 - 8.400
-  8.400 - 7.000
-  7.000 - 5.500



(Adaptado de W. F. Rudmann, *A Terra Transformada*.
Porto Alegre: Bookman, 2015, p. 53 e 59.)

08. O climograma retrata um dos climas predominantes na Europa: o clima temperado. Com o auxílio dos seus estudos e do gráfico aponte as principais características desse tipo climático.

LONDRES - GRÃ BRETANHA



Adaptado de <http://somosolimpicos.com/london-londres-2012/londres-climatologia-en-los-jiroo/>

09. Os países da Eurásia dispõem de fatores geográficos favoráveis ao desenvolvimento de atividades econômicas. Explique como a presença de planícies com rios navegáveis favorece o comércio interno e externo da Eurásia.

10.



QUINO. Adaptado de br.pinterest.com.

Na esfera das relações internacionais, o contexto histórico ao qual a personagem faz referência era marcado por uma divisão do mundo decorrente da diferença político-ideológica. Identifique e explique o contexto histórico retratado.

11.



Adaptado de thinglink.com.

O cartaz acima foi utilizado como instrumento de propaganda do Plano Marshall, principal iniciativa dos Estados Unidos para a reconstrução dos países aliados após a Segunda Guerra Mundial. Considerando a imagem e seu contexto histórico, aponte um objetivo do governo estadunidense ao implementar esse plano.

12. Aquilo que hoje chamamos "globalização" esteve na mira da classe capitalista o tempo todo. Se o desejo de conquistar o espaço e a natureza é uma manifestação de algum anseio humano universal ou um produto específico das paixões da classe capitalista, jamais saberemos. O que pode ser dito com certeza é que a conquista do espaço e do tempo, assim como a busca incessante para dominar a natureza, há muito tempo tem um papel central na psique coletiva das sociedades capitalistas. Apesar de todos os tipos de críticas, acusações, repulsas e movimentos políticos de oposição, [...] ainda prevalece a crença de que a conquista do espaço e do tempo, bem como da natureza (incluindo até mesmo a natureza humana), está de algum modo a nosso alcance.

(David Harvey. *O enigma do capital*, 2011.)

a) Explique como a conquista do espaço e do tempo se realizou na globalização.

b) Mencione duas críticas ao processo de globalização.

13. Observe a figura a seguir:



Fonte: <http://www.publicdomainpictures.net/view-image>

O tema apresentado na ilustração corresponde à expressão utilizada para o referendo, que decidiu pela saída do Reino Unido como membro da União Europeia. Aponte duas razões que justificam o apoio da maioria dos britânicos para a saída do Reino Unido da União Europeia.

14. O **Japão** é um país localizado no continente asiático e também chamado de "Terra do Sol Nascente". Faz parte do [Círculo do Fogo do Pacífico](#), com grande instabilidade tectônica, atividade vulcânica intensa, além de um solo pobre, com baixa oferta de minérios e combustíveis. Apesar dessas limitações o Japão tornou-se uma das três maiores potências da nova ordem mundial. Indique três fatores que contribuíram com a emergência do Japão como potência econômica no século XX.

15. No começo da noite de 9 de novembro de 1989, um grupo de anônimos cidadãos de Berlim escala os 3,5 metros do muro e, pela primeira vez em 28 anos, não é reprimido pelos guardas de fronteira entre as Alemanhas Ocidental e Oriental. Nas horas seguintes, centenas de moradores dos dois lados saltam a muralha que separa a cidade em duas para se confraternizar, enquanto uma multidão com marretas, martelos e barras de ferro começa, aos poucos, a arrancar pedaços da construção.

A QUEDA do Muro de Berlim. Almanaque Abril. Disponível em: <<https://almanaque.abril.com.br>>. Acesso em: 1o dez. 2015.

O evento relatado tem uma significância singular no processo histórico-geográfico global que definiu as relações de poder durante grande parte do século XX. Tal processo esteve representado pela:

- a) influência eurocentrista franco-britânica diante da expansão nazifascista, fortalecida ao final da Primeira Guerra Mundial.
- b) disputa neocolonialista afro-asiática, que revelou um imperialismo entre Alemanha e Itália, deflagrando a Segunda Guerra Mundial.
- c) ação da Organização das Nações Unidas (ONU), que criou o limite físico para separação étnico-cultural no país, possibilitando a paz em Berlim.
- d) expansão do império turco-otomano diante da resistência germânico-ocidental, mas com o apoio do lado oriental.
- e) ocorrência da Guerra Fria, durante a qual os Estados Unidos dominaram o lado ocidental da Alemanha, e a União Soviética estabeleceu o socialismo no lado oriental do país.

16. Rússia planeja ensinar táticas militares em escolas

A iniciativa partiu do Ministério da Defesa do país. O treinamento será realizado pela Yunarmiya – ou Exército Jovem –, uma organização que existiu durante a União Soviética e foi ressuscitada pelo governo atual. [...] O objetivo parece ser expandir a educação militar já oferecida pelas escolas. Desde a anexação da península da Crimeia, em 2014, a Rússia tem vivido uma onda de nacionalismo, e o Ministério da Defesa busca tornar mais estruturado o "crescente número de movimentos militares patrióticos" do país.

RÚSSIA planeja ensinar táticas militares em escolas. *BBC*. 23 maio 2016. Disponível em: <<http://www.bbc.com>>. Acesso em: 25 maio 2016.

A notícia anterior, acerca da inclusão do ensino de técnicas militares em escolas russas, estabelece uma relação histórica com o:

- a) período da Guerra Fria, quando houve, na antiga URSS, uma série de investimentos voltados para um possível confronto contra os Estados Unidos.
- b) início do século XX, a partir da Revolução Russa, quando a prioridade passou a ser a construção de uma estrutura de guerra para fazer frente ao ocidente europeu.
- c) governo implantado por Vladimir Lenin, no início da década de 1920, que aparelhou a Rússia com um forte esquema de guerra, para derrubar o czar Nicolau II e os mencheviques.
- d) conflito social ocorrido após o processo de industrialização russo, quando o país passou por uma intensa militarização, a partir da tentativa do governo de conter as revoltas sociais.
- e) contexto da formação da Federação Iugoslava, quando o marechal Josip Broz Tito implantou um regime socialista em uma federação de repúblicas, após a Primeira Guerra Mundial.

17. O taxista Gennadi Vihristina não anda pelas ruas de Tiraspol sem o seu passaporte amarfanhado, onde se lê CCCP (URSS).

"Ninguém mais reconhece isso. Mas, aqui em Transnístria, é o único documento oficial."

Pouco conhecida até dentro da Europa, a Transnístria vive no limbo.

A região tem presidente, ministros, moeda, bandeira, Constituição, Parlamento e controles fronteiriços próprios. Mas a sua independência não é reconhecida nem mesmo pela aliada Rússia, que mantém algumas centenas de soldados ali há 20 anos. [...] Quase tudo em Transnístria tem a aura do período soviético: blocos de apartamentos mal conservados, a bandeira oficial com a foice e o martelo, estátuas de Lenin, ônibus elétricos enferrujados, viaturas Lada da polícia, militares russos nos postos de fronteira e fábricas cinzentas.

MAISONNAVE, Fabiano. República fantasma. *Folha de S.Paulo*, São Paulo, 5 dez. 2011. Disponível em: <<http://www1.folha.uol.com.br>>. Acesso em: 31 dez. 2014. (adaptado)

A região pouco conhecida da Transnístria pode ser considerada um exemplo daquilo que está diretamente relacionado:

- a) à mal distribuição de renda existente entre as nações da União Europeia, que terminam por isolar países menos desenvolvidos.
- b) a uma consequência direta da crise econômica pela qual a União Europeia vem passando desde 2008 e que levou diversos países a uma falência econômica.
- c) ao fato de que o socialismo, presente de forma tão imperiosa durante a Guerra Fria, ainda existe em diversos países da Europa tanto ocidental quanto oriental.
- d) a um vestígio da antiga Ordem Bipolar durante a Guerra Fria que, após o fim da União Soviética, ainda não conseguiu se enquadrar em um mundo multipolar.
- e) a uma nova fase expansionista por parte da Rússia, que busca anexar política, econômica e territorialmente pequenas nações com o objetivo de construir uma nova União Soviética.

18. A charge mostra o fim de um Era, marcada por conflitos ideológicos e econômicos.



(Disponível em: <http://entendendoaguerrafria.blogspot.com/p/charges.html>. Acesso em set. 2018)

Em relação ao Muro de Berlim, representado na charge, podemos afirmar:

- Foi construído para evitar a emigração de alemães orientais para o lado capitalista, principalmente de trabalhadores com alta qualificação profissional.
- Foi levantado na capital alemã por ordem expressa de Adolf Hitler, como resultado da política nazista, objetivando separar os judeus dos alemães.
- Foi uma divisão simbólica entre dois blocos ideológicos – socialismo e capitalismo – separados por uma profunda divisão no campo das ideias, sendo comparada, por isso, a um muro.
- Sua queda foi decorrente da nova configuração econômica da Europa, com a constituição de um bloco de países que adotou o Euro como moeda comum.
- As potências aliadas vencedoras da II Guerra Mundial decidiram dividir a Alemanha em quatro zonas de influência (norte-americana, soviética, inglesa e francesa), e, com isso, a queda do muro foi uma consequência inevitável.

19. Há uma economia global caótica e obsessivamente voltada para a engrenagem financeira. A dimensão produtivista e empregatícia, tradicional ao desenvolvimento do capitalismo, vem sendo deixada à deriva, alterando as relações clássicas entre o capital e o trabalho em favor das novas tensões entre os que têm trabalho e emprego e os que não os têm.

(SARAIVA. 2012. p. p. 79 e 80).

Sobre o assunto retratado no trecho acima, é **correto** afirmar-se que:

- faz parte da atual globalização a desigualdade social, sendo necessária para alcançar uma sociedade do tipo planejada.
- o capitalismo, em pleno século XXI, não consegue eliminar as desigualdades sociais e econômicas entre as pessoas.
- a desigualdade gerada pelo capitalismo é resultado da submissão do mesmo aos países emergentes após o fim da Guerra Fria.
- “os que têm trabalho e emprego e os que não têm” são resultado exclusivamente do desemprego conjuntural.
- a “engrenagem financeira” citada no texto pode ser entendida pela disputa ideológica presente ainda no século XXI.

20. “Desde o início da década de 1980, a China tem sido a economia que mais cresce no mundo, a uma taxa média de 10% ao ano [...]. Como consequência desse impressionante crescimento, entre 1980 e 2010 o PIB chinês aumentou 2.810% e se tornou o segundo maior do planeta.”

SENE, Eustáquio & MOREIRA, J.C. *Geografia Geral e do Brasil: Espaço Geográfico e Globalização (2)*. 2ª ed. São Paulo: Moderna, 2012, p.199.

Dentre os fatores associados a esse avanço econômico podem-se destacar:

- a presença de enormes reservas de minérios e combustíveis fósseis no subsolo chinês que concede ao País autossuficiência em termos de matéria-prima e fontes de energia e o caracteriza como grande exportador mundial de petróleo.
- o modelo de economia planejada que, promovendo crescimento econômico com equilibrada distribuição de renda, amplia o mercado consumidor interno chinês, um dos mais gigantescos do mundo, e elimina as desigualdades sociais.
- a liberalização econômica em algumas áreas e os baixos custos da mão de obra, principal fator de competitividade da indústria chinesa, têm sido fundamentais para o crescimento econômico do País.
- o esforço chinês em atrair indústrias intensivas em capital para as chamadas zonas de desenvolvimento econômico e tecnológico, fazendo com que nas últimas décadas o País esteja entre os maiores receptores de investimentos produtivos do mundo.

Assinale a alternativa em que todas as afirmativas estão corretas:

- I e II

- b) I e III
- c) I e IV
- d) II e III
- e) III e IV