



Rua Rui Barbosa, 724 Centro/Sul
Fone: (86) 2106-0606 • Teresina - PI
Site: www.procampus.com.br
E-mail: procampus@procampus.com.br

GRUPO EDUCACIONAL PRO CAMPUS JUNIOR

aluno(a) _____

2ª Série - Ensino Médio

TURMA _____

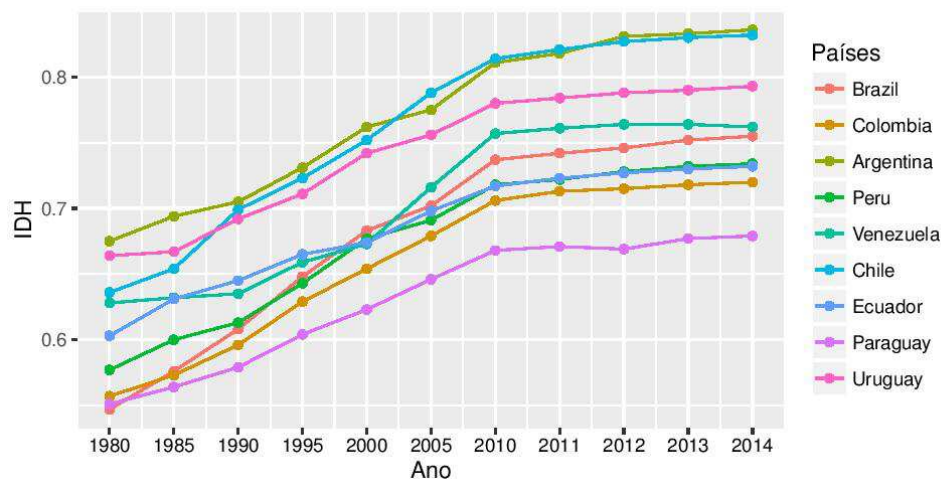
MANHÃ

Igo Tiago

TRABALHO DE GEOGRAFIA - ENSINO REMOTO

01. (UERJ) O Índice de Desenvolvimento Humano - IDH é adotado pela Organização das Nações Unidas - ONU para a classificação de países de acordo com indicadores sociais e econômicos.

Gráfico 1: IDH América do Sul



Evolução do IDH do Brasil

Crescimento médio do índice vem caindo desde os anos 1990, mas país foi apontado no relatório da ONU como um exemplo de políticas de proteção social



Aponte dois indicadores demográficos que compõem o IDH. Em seguida, a partir da análise do gráfico, justifique a variação desse índice no Brasil nas últimas décadas.

2 – (Unicap – Adaptada)

Difundido no primeiro Relatório de Desenvolvimento Humano Global do Programa das Nações Unidas para o Desenvolvimento (PNUD), em 1990, pelo economista paquistanês Mahbub ul Haq, o conceito de desenvolvimento humano inspira-se nos trabalhos do prêmio Nobel de Economia Amartya Sen e reforça a ideia de que as pessoas são a verdadeira "riqueza das nações".

Acerca do indicador apresentado, julgue os itens a seguir:

- () de acordo com essa concepção, o desenvolvimento humano é entendido como o processo de ampliação das escolhas e liberdades das pessoas, para que elas tenham oportunidades e capacidades para ser o que desejam ser;
- () ao contrário da perspectiva do crescimento econômico, que enxerga o bem-estar de uma sociedade pelos recursos ou pelo fator renda, a abordagem do desenvolvimento humano põe no centro da discussão as pessoas e suas oportunidades;
- () o Índice de Desenvolvimento Humano (IDH) é uma medida composta de indicadores de saúde, educação e renda. O IDH foi criado em 1990, para o Relatório de Desenvolvimento Humano do Programa das Nações Unidas para o Desenvolvimento;
- () o aspecto inovador do Índice de Desenvolvimento Humano (IDH) foi a criação de um índice sintético com o objetivo de servir como uma referência para o nível de desenvolvimento humano de uma determinada localidade;
- () o Brasil foi um dos países pioneiros ao adaptar e calcular o IDH para todos os municípios brasileiros, criando o Índice de Desenvolvimento Humano Municipal (IDHM). Esse índice permite a comparação entre municípios, conduz a um diálogo mais informado na discussão de políticas e estimula a busca por melhores desempenhos socioeconômicos entre os municípios brasileiros

3 – (UFPR) Observe a tabela abaixo:

| Países selecionados | População (2011) | PIB (2011) | Índice de Gini (2011) | Crescimento do PIB (2012) | IDH (2011) |
|---------------------|------------------|---------------------|-----------------------|---------------------------|--------------------|
| Brasil | 194 milhões | US\$ 2,5 trilhões | 0,539 | 1,5% | 0,718 (alto) |
| China | 1,34 bilhão | US\$ 7,32 trilhões | 0,474(*) | 7,8% | 0,687 (médio) |
| EUA | 313,8 milhões | US\$ 15,09 trilhões | 0,450 | 2,2% | 0,910 (muito alto) |

(*) Dado para 2012.

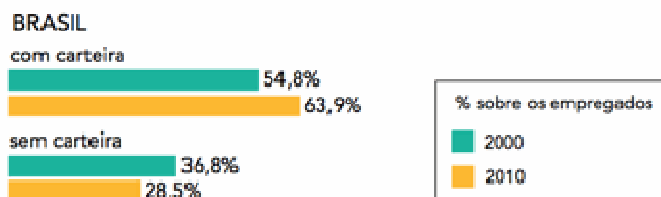
Fontes: Revista Época, n. 756, 12 nov. 2012; Income inequality: Delta blues. The Economist, 23 jan. 2013; UNDP. Human development report 2011.

Com base na tabela e nos conhecimentos de Geografia, assinale a alternativa correta.

- a) O índice de Gini revela que a tradição liberal dos EUA se reflete em uma desigualdade de renda mais elevada que a dos outros países selecionados.
- b) A grande população da China torna difícil para esse país alcançar um IDH elevado devido aos custos dos sistemas de saúde e de educação.
- c) Os EUA possuem o maior PIB em virtude do volume de suas exportações de alta tecnologia e das remessas de lucros de empresas multinacionais desse país para suas sedes.
- d) Embora possua o segundo maior PIB, o elevado contingente populacional da China implica uma renda per capita baixa, refletida no seu nível de desenvolvimento humano.
- e) A comparação entre Brasil e China mostra que o crescimento do PIB não tem efeito sobre o IDH porque esse índice é calculado com base nas estatísticas de saúde e de educação.

4 – (UERJ)

A década do emprego formal



Adaptado de O Globo, 28/04/2012.

De acordo com o gráfico, o mercado de trabalho formal no Brasil se ampliou na última década.

Cite duas vantagens para os trabalhadores nacionais propiciadas pela carteira assinada e duas vantagens para o governo brasileiro decorrentes da ampliação desse benefício.

5 – (UCPEL) O IDH, Índice de Desenvolvimento Humano, foi criado pelo Programa das Nações Unidas para o Desenvolvimento e é calculado para diversos países desde 1990. O índice varia de 0 a 1, sendo que quanto mais perto de 1, maior é o desenvolvimento humano, ou seja, a qualidade de vida medida do país ou do local onde é calculado com base em indicadores. Analise as seguintes afirmativas sobre o IDH.

- I. O IDH é calculado em função da média de três componentes: fertilidade, educação e renda do chefe do domicílio.
- II. O indicador do nível educacional do IDH é medido por uma combinação da taxa de alfabetização de pessoas de 15 anos ou mais e da taxa bruta de matrículas em relação à população de 7 a 22 anos de idade.
- III. O indicador de renda do IDH é medido pelo Produto Interno Bruto (PIB), real per capita em dólares, segundo o critério de Paridade do Poder de Compra.
- IV. O indicador de fertilidade do IDH é medido pelo número médio de filhos por mulher em idade de procriar, ou seja, considerado dos 15 aos 49 anos de idade.
- V. O indicador de longevidade do IDH é medido pela esperança de vida ao nascer.

Marque a opção certa:

- a) I e IV estão corretas.
- b) II, III e V estão corretas.
- c) III e IV estão corretas.
- d) II, IV e V estão corretas.
- e) I, III e IV estão corretas.

6 – (FATEC) O Índice de Desenvolvimento Humano (IDH) é uma medida comparativa usada para classificar a qualidade de vida oferecida por um país aos seus habitantes, levando em consideração três dimensões básicas do desenvolvimento humano: renda, educação e saúde.

O IDH vai de 0 a 1. Quanto mais próximo de 1, mais desenvolvido é o país. Analise a tabela a seguir:

| Classificação do IDH | País | IDH Valor | Expectativa de Vida (anos) | Média de anos de escolaridade (anos) | Rendimento Nacional Bruto (RNB) per capita (em dólar) |
|----------------------|-----------|-----------|----------------------------|--------------------------------------|---|
| 1º | Noruega | 0,943 | 81,1 | 12,6 | 47 557 |
| 4º | EUA | 0,910 | 78,5 | 12,4 | 43 017 |
| 45º | Argentina | 0,797 | 75,9 | 9,3 | 14 527 |
| 51º | Cuba | 0,776 | 79,1 | 9,9 | 5 416 |
| 84º | Brasil | 0,718 | 73,5 | 7,2 | 10 162 |
| 173º | Zimbábue | 0,376 | 51,4 | 7,2 | 376 |
| 174º | Etiópia | 0,363 | 59,3 | 1,5 | 971 |

([www://hdr.undp.org/en/media/HDR_2011_PT_Tables.pdf](http://hdr.undp.org/en/media/HDR_2011_PT_Tables.pdf). Acesso em: 24.09.2012. Adaptado)

Pode-se concluir corretamente que

- a) a Etiópia, por contar com qualidade nos serviços de saúde e de saneamento ambiental, ampliou a expectativa de vida de seus habitantes.
- b) o Zimbábue apresenta a média de anos de escolaridade igual à do Brasil e tem o Rendimento Nacional Bruto superior ao da Etiópia.
- c) Cuba, apesar de ter o rendimento nacional bruto elevado, não investe no setor educacional e na saúde de sua população.
- d) a Argentina, por estar em crise econômica, apresenta os índices de renda, educação e saúde inferiores aos do Brasil.
- e) a Noruega tem a maior classificação no IDH por, entre outros fatores, garantir vários anos de escolaridade para seus habitantes.

7 – (ESPM) Leia o texto:


Um dos aspectos mais marcantes da sociedade brasileira é a combinação de elevados níveis de pobreza à altíssima desigualdade social. Trata-se de um nível muito alto, uma vez que, na média, a renda da população brasileira é superior à recebida por quase três quartos da população mundial e, na maioria dos países com renda per capita semelhante à brasileira, os níveis de pobreza são notadamente inferiores.

(O que faz os ricos, ricos. Marcelo Medeiros. 2005)

De acordo com o texto e seus conhecimentos prévios, pode-se aferir que:

- a) o IDH brasileiro é baixo.
- b) o coeficiente de Gini é alto.
- c) o PIB per capita alcança a cifra de dois dígitos.
- d) o PIB brasileiro é baixo.
- e) a concentração de renda aumentou nos últimos anos.

Analise atentamente a tirinha a seguir, em seguida leia o texto que se segue:



O processo [...] de industrialização impulsionado [nas últimas décadas] não foi capaz de criar empregos suficientes para absorver a população economicamente ativa (PEA) [...] que passou a viver nas cidades. Na realidade, a automação do processo produtivo industrial em andamento nas últimas décadas, com a introdução de robôs, máquinas digitais e informatizadas e técnicas toyotistas de produção, tem desencadeado a dispensa de um grande contingente de operários [...].

BOLIGIAN; ALVES, 2004, p. 409.

Com base na ilustração, no texto e nos conhecimentos sobre o momento atual no contexto da sociedade contemporânea, em particular, no relacionamento do homem com a máquina, responda as três questões seguintes:

8 – Cite **uma consequência** da atual automação tecnológica no plano da oferta de trabalho no Brasil.

9 – Indique **uma mudança nas relações de trabalho** resultante da Revolução Tecnológica.

10 – Informe onde teve início o Toyotismo e cite **uma das principais características desse processo de produção**.

11 – (UNCISAL) Com base no texto abaixo e nos conhecimentos sobre a temática globalização,

A Globalização não apaga nem as desigualdades nem as condições que constituem uma parte importante do tecido da vida social nacional e mundial. Ao contrário, desenvolve umas e outras, recriando-se em outros níveis, com novos ingredientes. As mesmas condições que alimentam a interdependência e a integração, as desigualdades e contradições, em âmbito tribal, regional, nacional, continental e global.

é correto afirmar que,

- a) a importação do cinema norte-americano e da literatura europeia configura-se em um dos aspectos da globalização que afeta positivamente o Terceiro Mundo.
- b) a revolução tecnológica constitui-se na grande conquista da era da globalização, pois ela garante o estabelecimento de regimes democráticos no mundo.
- c) num mundo globalizado, a desigualdade, que é parte integrante das sociedades, desaparece em função do desenvolvimento igualitário da relação de produção material e cultural.
- d) a globalização constitui-se em um fenômeno de abertura das economias rumo a uma integração mundial e é, ao mesmo tempo, seletiva, pois não envolve todas as regiões, atividades e segmentos sociais.
- e) a globalização caracteriza-se pela valorização das culturas locais visando à criação e à implantação de democracias multiculturais nas Américas e na Ásia.

Leia o texto a seguir:

Faz cerca de vinte anos que “globalização” se tornou uma palavra-chave para a organização de nossos pensamentos no que respeita ao funcionamento do mundo. A palavra “globalização” entrou recentemente em nossos discursos e, mesmo entre muitos “progressistas” e “esquerdistas” do mundo capitalista avançado, palavras mais carregadas politicamente passaram a ter um papel secundário diante de “globalização”. A globalização pode ser vista como um processo, uma condição ou um tipo específico de projeto político.

(Adaptado de David Harvey, Espaços de Esperança. São Paulo: Edições Loyola, 2006. p. 79.)

12 – Identifique uma característica política e uma cultural do processo de globalização.

13 – Quais as principais críticas econômicas dos movimentos antiglobalização?

- 14 – (UNICAMP) Importantes transformações produtivas e na forma de organização do trabalho têm ocorrido nas últimas décadas em todo o mundo e também no Brasil. Assinale a alternativa correta.
- a) Em todo o mundo vêm sendo observadas mudanças em relação ao assalariamento e ao desemprego, como a precarização das relações de trabalho para desoneração da produção, e o crescimento da informalidade.
 - b) Acordos e tratados internacionais, dos quais o Brasil é signatário, tratam da questão do trabalho escravo e proíbem a escravidão por dívida, razão pela qual esse tipo de trabalho forçado não é registrado no país desde 1888.
 - c) Considerando a oferta de trabalho no Brasil, observa-se uma mudança de tendência, com a diminuição de oferta de emprego no setor primário e terciário, e efetivo aumento da oferta de emprego no setor secundário da economia.
 - d) Uma característica marcante das relações de trabalho na etapa atual do modo de produção é a maior organização sindical.
- 15 – (UFBA) A contextualização do momento histórico compreendido nas últimas quatro décadas do século XX explica a divulgação de duas teorias político-econômicas — o neoliberalismo e a globalização capitalista —, que passaram a exercer grande influência nas relações internas e externas do mundo atual.

Apresente o **conceito** de neoliberalismo e indique **uma prática** resultante da sua aplicação.

- 16 – (UFT) No atual estágio do processo de globalização, a cultura e suas respectivas formas de manifestação têm ganhado um papel de destaque nas relações internacionais. Em diversos países tem-se constatado manifestações que reforçam as identidades locais e regionais em detrimento de um processo de homogeneização e padronização cultural impulsionado e estimulado, sobretudo, por grandes empresas transnacionais. Para Hall (2009), “juntamente com as tendências homogeneizantes da globalização, existe a „proliferação subalterna da diferença””. A partir do que foi apresentado, podemos considerar **INCORRETA** a alternativa que diz
- a) que a globalização contemporânea possibilita a formação de uma tendência cultural homogeneizante por meio das técnicas de informação, ciência e comunicação que ela coloca à disposição de atores políticos globais, que atuam no sentido de erradicar as manifestações culturais em escalas local e regional que reivindicam seus direitos a diferença.
 - b) que a globalização contemporânea, a partir das técnicas, da ciência e da informação disponíveis para a atuação em escala global de empresas transnacionais, apresenta uma tendência à homogeneização cultural que é contestada, pois, em diversos países tem surgido movimentos culturais que implicam na manifestação da diferença a essa tendência homogeneizante global.
 - c) que na globalização contemporânea as mesmas técnicas de informação e de produção do conhecimento científico utilizadas por atores políticos para construir uma tendência cultural global homogeneizante são utilizadas por movimentos políticos em suas manifestações culturais reivindicando seu direito à diferença.
 - d) que a globalização contemporânea apresenta-se como um paradoxo, pois do ponto de vista cultural, ao mesmo tempo em que ela trabalha para que as coisas pareçam semelhantes entre si, contraditoriamente, ela constroi possibilidades de proliferação de diferenças.
 - e) que na globalização contemporânea identificamos um movimento dialético no sentido de que ao mesmo tempo em que ela estrutura uma tendência cultural homogeneizante, possibilita que se manifestem movimentos de enfrentamento e reivindicação que proliferam seus direitos à diferença.
- 17 – (UFRN) Sobre o Fórum Social Mundial (FSM), realizado pela primeira vez em janeiro de 2001, na cidade de Porto Alegre (RS), é correto afirmar:
- a) É uma entidade, constituída por diversas organizações governamentais e não governamentais, que combate as idéias globalizantes do neoliberalismo.
 - b) É uma organização sociopolítica de caráter democrático dos países subdesenvolvidos que faz oposição ao desenvolvimento do capitalismo.
 - c) Trata-se de um espaço de debates democrático de idéias e de formulação de propostas opostas ao neoliberalismo e ao processo de globalização comandado pelas grandes corporações.
 - d) Trata-se de um acordo firmado entre as organizações que representam os interesses econômicos da sociedade dos países subdesenvolvidos para combater as ações imperialistas e globalizantes do capitalismo.

18 – (UFRJ)



O desenho esquemático mostra alguns dos principais agentes do processo de globalização, mas omite os três mais poderosos. Identifique esses agentes.

19 – (FGV – economia) Observe a tabela para responder à questão.

| EVOLUÇÃO DO PIB PER CAPITA (EM US\$) | | |
|--------------------------------------|---------|---------|
| | 1960/62 | 2000/02 |
| 20 países mais ricos | 11 417 | 32 339 |
| 20 países mais pobres | 212 | 267 |

(Relatório da ONU sobre a situação social do mundo, 2005)

A leitura da tabela e os conhecimentos sobre o contexto econômico mundial permitem afirmar que

- a diminuição das desigualdades mundiais deverá ocorrer com a liberalização econômica e o crescimento do comércio entre blocos.
- há uma forte relação entre o processo de concentração da produção industrial e o aumento das diferenças sociais no mundo.
- o crescimento econômico não é suficiente para promover a distribuição mais equitativa da riqueza, pois a China continua apresentando o maior percentual de pobreza do mundo.
- atualmente, a teoria neomalthusiana é retomada para explicar os desequilíbrios sociais contemporâneos, pois as populações mais pobres são as de maior crescimento natural.
- o processo de globalização é assimétrico e, nestas últimas décadas, tem aumentado a desigualdade socioeconômica mundial.

20 – (UFMG) Considerando-se a globalização, fase atual da expansão capitalista, é **INCORRETO** afirmar que ela

- promove a crescente vulnerabilidade das economias de muitos países, à medida que sua credibilidade, frente aos investimentos externos, é afetada por relatórios e opiniões de agentes do poder político e econômico internacionais.
- amplia a capacidade das nações de realizar investimentos públicos em áreas prioritárias - como na educação, saúde e saneamento básico -, à proporção que cresce o controle do Estado sobre o fluxo de capitais oriundos de taxas e impostos.
- retrata a interdependência crescente entre regiões e lugares que, apesar de geograficamente separados por grandes distâncias, podem ser influenciados por eventos ocorridos em qualquer parte do Planeta.
- propõe uma ruptura com o princípio, até há pouco vigente, de sociedades nacionais a pretexto da necessidade de se considerar a realidade de uma sociedade global, em que são intensas as relações socioeconômicas em escala mundial.

